

DATA 13/11/2023

NOME SIMONE

COGNOME RANDAZZO

1 Ti sei divertito a seguire il corso di scacchi? SI

2 Consigliaresti il corso di scacchi ai tuoi amici? SI

3 Pensi che le lezioni di scacchi ti abbiano aiutato anche nel rendimento scolastico? NO

4 Pensi che continuerai a praticare gli scacchi? VERO!

5 Quanto pensi di aver imparato ?

molto
 poco

abbastanza

6 Negli scacchi si può pattare solo se i due giocatori sono d'accordo. NO


Vero
 Falso

7 Il bianco ha appena fatto la sua mossa. Qual è il risultato della partita?



1-0
 1/2
 0-1

8 Il bianco ha appena fatto la sua mossa. Qual è il risultato della partita?



- 1-0
- 1/2
- 0-1

9 Il bianco può arroccare?




- Sì
- No

10 Il bianco può arroccare?



- Sì
- No

11 Come si chiama questo particolare matto?



- matto delle spalline
- matto affogato
- matto del corridoio

12 Il bianco, in due mosse, può infliggere al nero il matto del corridoio. Scrivi la prima mossa:



Td8+

13 Con quale mossa il bianco può iniziare la manovra a "scaletta" per dare scacco matto al Re nero?




- A Tb1+
- B Rb3
- C Th6+

14 Muove il nero. Scrivi la mossa che cattura un pezzo indifeso:



B,4

15 Il bianco, in due mosse, può guadagnare del materiale. Scegli la prima mossa:



- A Txc7+
- B Txb5
- C Dxb5

DATA 13/11/2023

NOME Ottavia

COGNOME Di Martino

1 Ti sei divertito a seguire il corso di scacchi? SI

2 Consigliaresti il corso di scacchi ai tuoi amici? SI

3 Pensi che le lezioni di scacchi ti abbiano aiutato anche nel rendimento scolastico? NO

4 Pensi che continuerai a praticare gli scacchi? SI

5 Quanto pensi di aver imparato ?


- molto
 poco

abbastanza

6 Negli scacchi si può pattare solo se i due giocatori sono d'accordo.


- Vero
 Falso

7 Il bianco ha appena fatto la sua mossa. Qual è il risultato della partita?



- 1-0
 1/2
 0-1

8 Il bianco ha appena fatto la sua mossa. Qual è il risultato della partita?



- 1-0
- 1/2
- 0-1

9 Il bianco può arroccare?




- Sì
- No

10 Il bianco può arroccare?



- Sì
- No

11 Come si chiama questo particolare matto?



- matto delle spalline
- matto affogato
- matto del corridoio

12 Il bianco, in due mosse, può infliggere al nero il matto del corridoio. Scrivi la prima mossa:



TORRE IN E8

13 Con quale mossa il bianco può iniziare la manovra a "scaletta" per dare scacco matto al Re nero?




- A Tb1+
- B Rb3
- C Th6+

14 Muove il nero. Scrivi la mossa che cattura un pezzo indifeso:



REGINA IN B4

15 Il bianco, in due mosse, può guadagnare del materiale. Scegli la prima mossa:



- A Txc7+
- B Txh5
- C Dxx5

Test Finale - A scuola dagli SPORT DELLA MENTE

DATA

13/11/23

NOME

Alessandro

COGNOME

Lo Truglio

1 Ti sei divertito a seguire il corso di scacchi? Sì

2 Consigliaresti il corso di scacchi ai tuoi amici?

No perché i miei amici a cui gli piace lo sport scacchi sono già venuti con me.

3 Pensi che le lezioni di scacchi ti abbiano aiutato anche nel rendimento scolastico?

No

4 Pensi che continuerai a praticare gli scacchi?

Forse no.

5 Quanto pensi di aver imparato?

molto

abbastanza

poco

6 Negli scacchi si può pattare solo se i due giocatori sono d'accordo.

Vero

Falso

7 Il bianco ha appena fatto la sua mossa. Qual è il risultato della partita?



1-0

1/2

0-1

8 Il bianco ha appena fatto la sua mossa. Qual è il risultato della partita?




- 1-0
- 1/2
- 0-1

9 Il bianco può arroccare?




- Sì
- No

10 Il bianco può arroccare?



- Sì
- No

11 Come si chiama questo particolare matto?



- matto delle spalline
- matto affogato
- matto del corridoio

12 Il bianco, in due mosse, può infliggere al nero il matto del corridoio. Scrivi la prima mossa:




T D8+

13 Con quale mossa il bianco può iniziare la manovra a "scaletta" per dare scacco matto al Re nero?




- A Tb1+
- B Rb3
- C Th6+

14 Muove il nero. Scrivi la mossa che cattura un pezzo indifeso:



Dxa B4

15 Il bianco, in due mosse, può guadagnare del materiale. Scegli la prima mossa:



- A Txc7+
- B Txh5
- C Dxd5

DATA

13/11/2023

NOME

Chiara

COGNOME

Bellina

1 Ti sei divertito a seguire il corso di scacchi?

Si

2 Consiglieresti il corso di scacchi ai tuoi amici?

Si

3 Pensi che le lezioni di scacchi ti abbiano aiutato anche nel rendimento scolastico?

NO

4 Pensi che continuerai a praticare gli scacchi?

Si

5 Quanto pensi di aver imparato ?

molto
 poco

abbastanza

6 Negli scacchi si può pattare solo se i due giocatori sono d'accordo.


Vero
 Falso

7 Il bianco ha appena fatto la sua mossa. Qual è il risultato della partita?



A 1-0
 B 1/2
 C 0-1

8 Il bianco ha appena fatto la sua mossa. Qual è il risultato della partita?



- A 1-0
- B 1/2
- C 0-1

9 Il bianco può arroccare?



- A Sì
- B No

10 Il bianco può arroccare?




- A Sì
- B No

11 Come si chiama questo particolare matto?



- A matto delle spalline
- B matto affogato
- C matto del corridoio

12. Il bianco, in due mosse, può infliggere al nero il matto del corridoio. Scrivi la prima mossa:



Td8+

13. Con quale mossa il bianco può iniziare la manovra a "scaletta" per dare scacco matto al Re nero?



- A Tb1+
- B Rb3
- C Th6+

14. Muove il nero. Scrivi la mossa che cattura un pezzo indifeso:



DxA B4

15. Il bianco, in due mosse, può guadagnare del materiale. Scegli la prima mossa:



- A Txc7+
- B Txh5
- C Dxb5

DATA 13/11/2023

NOME YANESSA

COGNOME GRECO

1 Ti sei divertito a seguire il corso di scacchi? NI SÌ E NO.

2 Consigliaresti il corso di scacchi ai tuoi amici? SÌ

3 Pensi che le lezioni di scacchi ti abbiano aiutato anche nel rendimento scolastico? SÌ

4 Pensi che continuerai a praticare gli scacchi? NO

5 Quanto pensi di aver imparato ?


- A molto
 C poco

B abbastanza

6 Negli scacchi si può pattare solo se i due giocatori sono d'accordo.


- A Vero
 B Falso

7 Il bianco ha appena fatto la sua mossa. Qual è il risultato della partita?



- A 1-0
 B 1/2
 C 0-1

8 Il bianco ha appena fatto la sua mossa. Qual è il risultato della partita?



- A 1-0
- B 1/2
- C 0-1

9 Il bianco può arroccare?




- A Sì
- B No

10 Il bianco può arroccare?




- A Sì
- B No

11 Come si chiama questo particolare matto?




- A matto delle spalline
- B matto affogato
- C matto del corridoio

12 Il bianco, in due mosse, può infliggere al nero il matto del corridoio. Scrivi la prima mossa:




C,1

13 Con quale mossa il bianco può iniziare la manovra a "scaletta" per dare scacco matto al Re nero?




- A Tb1+
- B Rb3
- C Th6+

14 Muove il nero. Scrivi la mossa che cattura un pezzo indifeso:



REGINA IN B,4

15 Il bianco, in due mosse, può guadagnare del materiale. Scegli la prima mossa:



- A Txc7+
- B Txf5
- C Dxf5

DATA

13/11/23

NOME

PIETRO

COGNOME

CASTRONOVO

1 Ti sei divertito a seguire il corso di scacchi?

SI

2 Consigliaresti il corso di scacchi ai tuoi amici?

SI

3 Pensi che le lezioni di scacchi ti abbiano aiutato anche nel rendimento scolastico?

NO

4 Pensi che continuerai a praticare gli scacchi?

SI

5 Quanto pensi di aver imparato ?

molto
 poco

abbastanza

6 Negli scacchi si può pattare solo se i due giocatori sono d'accordo.


Vero
 Falso

7 Il bianco ha appena fatto la sua mossa. Qual è il risultato della partita?



A 1-0
 B 1/2
 C 0-1

8 Il bianco ha appena fatto la sua mossa. Qual è il risultato della partita?



- 1-0
- 1/2
- 0-1

9 Il bianco può arroccare?




- Sì
- No

10 Il bianco può arroccare?




- Sì
- No

11 Come si chiama questo particolare matto?



- matto delle spalline
- matto affogato
- matto del corridoio

12 Il bianco, in due mosse, può infliggere al nero il matto del corridoio. Scrivi la prima mossa:



D,8

13 Con quale mossa il bianco può iniziare la manovra a "scaletta" per dare scacco matto al Re nero?



- A Tb1+
- B Rb3
- C Th6+

14 Muove il nero. Scrivi la mossa che cattura un pezzo indifeso:



B,4

15 Il bianco, in due mosse, può guadagnare del materiale. Scegli la prima mossa:



- A Txc7+
- B Txf5
- C Dxf5

DATA 13/11/2023

NOME Veronica

COGNOME Greco

1 Ti sei divertito a seguire il corso di scacchi?

Si,

2 Consigliaresti il corso di scacchi ai tuoi amici?

Si.

3 Pensi che le lezioni di scacchi ti abbiano aiutato anche nel rendimento scolastico?

Si

4 Pensi che continuerai a praticare gli scacchi?

Sì, ma solo in giorni in cui mi vengono presenti, non lo so.

5 Quanto pensi di aver imparato ?

molto

abbastanza

poco

6 Negli scacchi si può pattare solo se i due giocatori sono d'accordo.

Vero

Falso

7 Il bianco ha appena fatto la sua mossa. Qual è il risultato della partita?




A 1-0

B 1/2


C 0-1

8 Il bianco ha appena fatto la sua mossa. Qual è il risultato della partita?



- A 1-0
- B 1/2
- C 0-1

9 Il bianco può arroccare?




- A Sì
- B No

10 Il bianco può arroccare?



- A Sì
- B No

11 Come si chiama questo particolare matto?



- A matto delle spalline
- B matto affogato
- C matto del corridoio

12 Il bianco, in due mosse, può infliggere al nero il matto del corridoio. Scrivi la prima mossa:



13 Con quale mossa il bianco può iniziare la manovra a "scaletta" per dare scacco matto al Re nero?



- (A) Tb1+
- (B) Rb3
- (C) Th6+

14 Muove il nero. Scrivi la mossa che cattura un pezzo indifeso:



B, 4

15 Il bianco, in due mosse, può guadagnare del materiale. Scegli la prima mossa:



- (A) Txc7+
- (B) Txf5
- (C) Dxf5



Matti per gli scacchi
www.mattiperliscachi.it

Test Finale - A scuola dagli SPORT DELLA MENTE

DATA

13/11/2023

NOME

GABRIELE

COGNOME

GANGI

1 Ti sei divertito a seguire il corso di scacchi?

SI

2 Consigliaresti il corso di scacchi ai tuoi amici?

SI

3 Pensi che le lezioni di scacchi ti abbiano aiutato anche nel rendimento scolastico?

SI

4 Pensi che continuerai a praticare gli scacchi?

SI

5 Quanto pensi di aver imparato?

ABBASTANZA

molto

abbastanza

poco

6 Negli scacchi si può pattare solo se i due giocatori sono d'accordo.


FALSO

Vero

Falso

7 Il bianco ha appena fatto la sua mossa. Qual è il risultato della partita?

1/2



A 1-0


B 1/2

C 0-1

8

Il bianco ha appena fatto la sua mossa. Quali è il risultato della partita?

1-0



- (A) 1-0
- (B) 1/2
- (C) 0-1

9

Il bianco può arroccare?

Sì



- (A) Sì
- (B) No

10

Il bianco può arroccare?

NO




- (A) Sì
- (B) No

11


Come si chiama questo particolare matto?

MATTO AFFOGATO



- (A) matto delle spalline
- (B) matto affogato
- (C) matto del corridoio

12 Il bianco, in due mosse, può infliggere al nero il matto del corridoio. Scrivi la prima mossa: Td8



13 Con quale mossa il bianco può iniziare la manovra a "scaletta" per dare scacco matto al Re nero? Th6+




- (A) Tb1+
- (B) Rb3
- (C) Th6+

14 Muove il nero. Scrivi la mossa che cattura un pezzo indifeso: Dxb4



15 Il bianco, in due mosse, può guadagnare del materiale. Scegli la prima mossa: Txb5



- (A) Txc7+
- (B) Txb5
- (C) Dxb5

Test Finale - A scuola dagli SPORT DELLA MENTE

DATA

13/11/2023

NOME

Eleona

COGNOME

Rivolo

1 Ti sei divertito a seguire il corso di scacchi?

Si

2 Consigliaresti il corso di scacchi ai tuoi amici?

Solo ad alunni

3 Pensi che le lezioni di scacchi ti abbiano aiutato anche nel rendimento scolastico?

No

4 Pensi che continuerai a praticare gli scacchi?

Si

5 Quanto pensi di aver imparato ?

- molto
 poco

abbastanza

6 Negli scacchi si può pattare solo se i due giocatori sono d'accordo.

- Vero
 Falso

7 Il bianco ha appena fatto la sua mossa. Qual è il risultato della partita?



- A 1-0
 B 1/2
 C 0-1

8 Il bianco ha appena fatto la sua mossa. Qual è il risultato della partita?



- 1-0
- 1/2
- 0-1

9 Il bianco può arroccare?



- Sì
- No

10 Il bianco può arroccare?



- Sì
- No

11 Come si chiama questo particolare matto?



- matto delle spalline
- matto affogato
- matto del corridoio

12. Il bianco, in due mosse, può infliggere al nero il matto del corridoio. Scrivi la prima mossa:

8Te8+

13. Con quale mossa il bianco può iniziare la manovra a "scaletta" per dare scacco matto al Re nero?

8

- (A) Tb1+
- (B) Rb3
- (C) Th6+

14. Muove il nero. Scrivi la mossa che cattura un pezzo indifeso:

Alfiere

15. Il bianco, in due mosse, può guadagnare del materiale. Scegli la prima mossa:

8

- (A) Txc7+
- (B) Txh5
- (C) Dxh5



Molti per gli scacchi
Federazione Italiana Scacchi

Test Finale - A scuola dagli SPORT DELLA MENTE

DATA

13/11/2023

NOME

Carlotta

COGNOME

Gangi

1 Ti sei divertito a seguire il corso di scacchi?

~~È bello fare scacchi~~

L'esperienza degli scacchi può essere molto bella per le persone, ma per me non è piaciuta molto perché gli scacchi non mi appassionano.

2 Consigliaresti il corso di scacchi ai tuoi amici?

No, perché non ho amici a cui interesserebbero gli scacchi.

3 Pensi che le lezioni di scacchi ti abbiano aiutato anche nel rendimento scolastico?

no

4 Pensi che continuerai a praticare gli scacchi?

no

5 Quanto pensi di aver imparato?

- A molto
 C poco

X abbastanza

6 Negli scacchi si può pattare solo se i due giocatori sono d'accordo.


- A Vero
 X Falso

7 Il bianco ha appena fatto la sua mossa. Qual è il risultato della partita?



- X 1-0
 A 1/2
 C 0-1

8 Il bianco ha appena fatto la sua mossa. Qual è il risultato della partita?



- 1-0
- 1/2
- 0-1

9 Il bianco può arroccare?



- Sì
- No

10 Il bianco può arroccare?



- Sì
- No

11 Come si chiama questo particolare matto?



- matto delle spalline
- matto affogato
- matto del corridoio

12 Il bianco, in due mosse, può infliggere al nero il matto del corridoio. Scrivi la prima mossa: **T1,E+X**



13 Con quale mossa il bianco può iniziare la manovra a "scaletta" per dare scacco matto al Re nero?



- A Tc1+
- B Rb3
- X Th6+

14 Muove il nero. Scrivi la mossa che cattura un pezzo indifeso:



D B5X

15 Il bianco, in due mosse, può guadagnare del materiale. Scegli la prima mossa:



- A Txc7+
- B Txf5
- X Dxf5



Matti per gli scacchi

Test Finale - A scuola dagli SPORT DELLA MENTE

DATA

13/11/2023

NOME

Elisa Basile

COGNOME

Basile Elisa

1 Ti sei divertito a seguire il corso di scacchi? SÌ, PERCHÉ HO IMPARATO MOLTE COSE NUOVE

2 Consigliaresti il corso di scacchi ai tuoi amici? SÌ, CONSIGLIEREI IL CORSO A I MIEI AMICI PERCHÉ SCACCHI È UN GIOCO MOLTO DIVERTENTE E ALLO STESSO TEMPO MOLTO RIFLESSIVO

3 Pensi che le lezioni di scacchi ti abbiano aiutato anche nel rendimento scolastico? UN PO MI HA AIUTATO A PENSARE MEGLIO

4 Pensi che continuerai a praticare gli scacchi? MI ALLENERÒ A CASA, MA SE AVRÒ ALTRE OCCASIONI, LE SFRUTTERÒ

5 Quanto pensi di aver imparato?


- A) molto
 C) poco

B) abbastanza

6 Negli scacchi si può pattare solo se i due giocatori sono d'accordo.


- A) Vero
 B) Falso

7 Il bianco ha appena fatto la sua mossa. Quali è il risultato della partita?



- A) 1-6
 B) 1/2
 C) 0-1

8 Il bianco ha appena fatto la sua mossa. Qual è il risultato della partita?



- 1-0
- 1/2
- 0-1

9 Il bianco può arroccare?



- Sì
- No

10 Il bianco può arroccare?




- Sì
- No

11 Come si chiama questo particolare matto?



- A matto delle spalline
- B matto affogato
- C matto del corridoio

12 Il bianco, in due mosse, può infliggere al nero il matto del corridoio. Scrivi la prima mossa:




LA TORRE IN D.6 SI SPOSTA
IN D.1

13 Con quale mossa il bianco può iniziare la manovra a "scaletta" per dare scacco matto al Re nero?



- A Tb1+
- B Rb3
- C Th6+

14 Muove il nero. Scrivi la mossa che cattura un pezzo indifeso:



DxA

15 Il bianco, in due mosse, può guadagnare del materiale. Scegli la prima mossa:



- A Txc7+
- B Txf5
- C Dxf5

DATA

13-11-2023

NOME

OLIMPIA

COGNOME

REMICHI

1 Ti sei divertito a seguire il corso di scacchi? SÌ, PERCHÉ HO IMPARATO UN GIOCO CHE NON SAPEVO FARE.

2 Consiglieresti il corso di scacchi ai tuoi amici? SÌ, LO CONSIGLIEREBI ANCHE PERCHÉ È UN GIOCO MOLTO DIVERTENTE E ANCHE PERCHÉ È UN GIOCO A CUI SI DEVE RIFLETTERE.

3 Pensi che le lezioni di scacchi ti abbiano aiutato anche nel rendimento scolastico? A LO PENSO CHE UN PO' MA POKISSISSIMO MI ABBIANO AIUTATO COL RENDIMENTO SCOLASTICO.

4 Pensi che continuerai a praticare gli scacchi? ALLORA SE CI SARANNO ANCHE LEZIONI SÌ, INVECE SE NON CI SARANNO MI ALLENERÒ A CASA.

5 Quanto pensi di aver imparato?

molto

abbastanza


poco

6 Negli scacchi si può pattare solo se i due giocatori sono d'accordo.

Vero

Falso

7 Il bianco ha appena fatto la sua mossa. Qual è il risultato della partita?



706
 1-0 B

1/2 P

0-1 N

8 Il bianco ha appena fatto la sua mossa. Qual è il risultato della partita?



- A 1-0 B
- B 1/2 P
- C 0-1 N

9 Il bianco può arroccare?



- A Sì
- B No

10 Il bianco può arroccare?



- A Sì
- B No

11 Come si chiama questo particolare matto?




- A matto delle spalline
- B matto affogato
- C matto del corridoio

12 Il bianco, in due mosse, può infliggere al nero il matto del corridoio. Scrivi la prima mossa:



LA TORRE IN D,4 SI SPOSTA IN D,1

13 Con quale mossa il bianco può iniziare la manovra a "scaletta" per dare scacco matto al Re nero?



- (A) Tb1+
- (B) Rb3
- (C) Th6+

14 Muove il nero. Scrivi la mossa che cattura un pezzo indifeso:



DxA

15 Il bianco, in due mosse, può guadagnare del materiale. Scegli la prima mossa:



- (A) Txc7+
- (B) Txf5
- (C) Dxf5